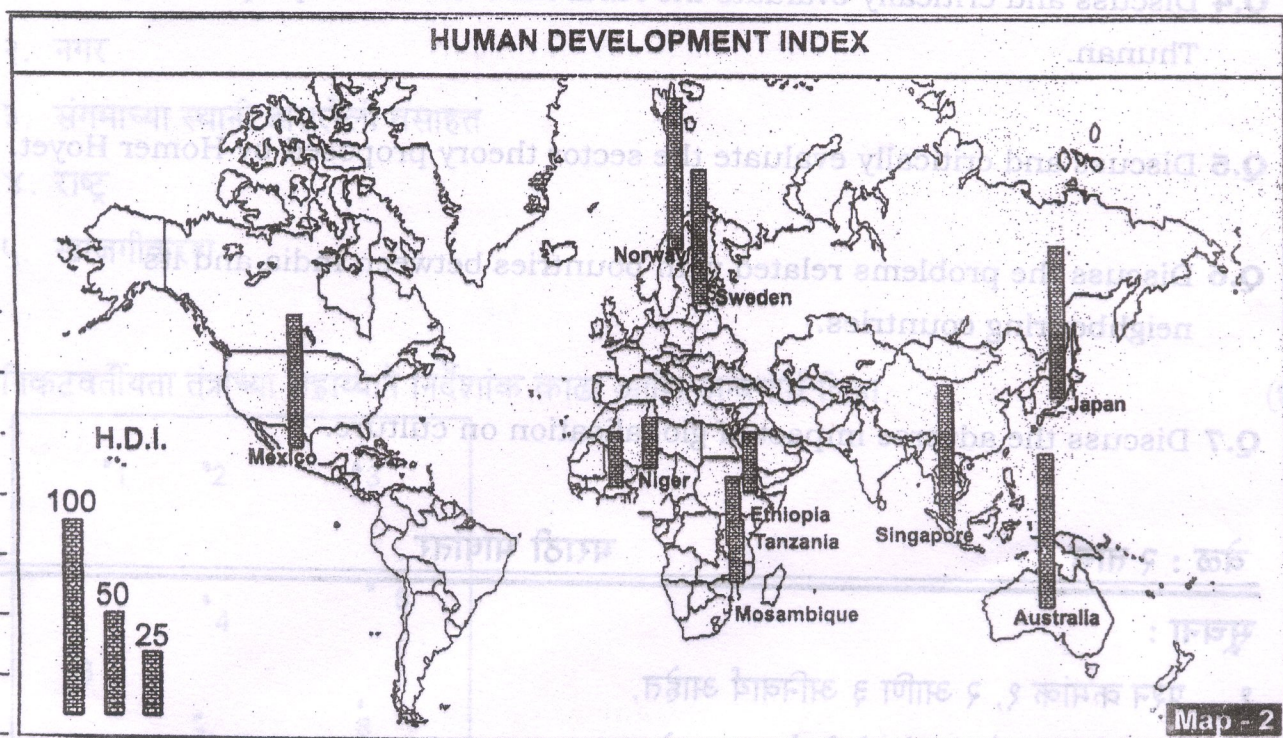


Instructions :

1. Q. 1, 2, and 3 are compulsory.
2. Attempt any TWO questions from Q. 4 to Q.7.
3. Draw appropriate diagrams wherever necessary.

Q.1 A) Read the following world map and answer the questions.

[5]



QUESTIONS :

1. Name the cartographic technique used to represent the data.
2. What is the theme represented in the given map ?
3. Which country shows lowest Human Development Index?
4. Which country shows the highest Human Development Index ?
5. What is the Human Development Index in Mosambique ?

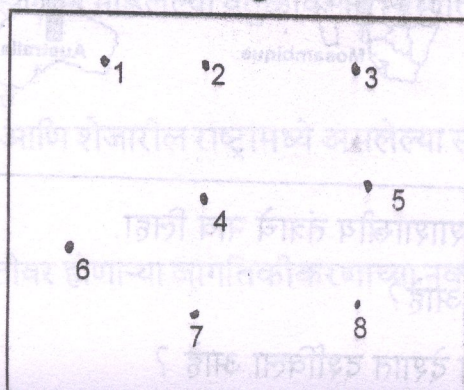
B) Define the following concepts.

[5]

1. Suburbanisation.
2. town
3. Confluence point settlement
4. Nation
5. Privatisation

Q.2 Calculate Nearest Neighbour Index and analyse the results.

[10]



Q.3 Write short notes (Any TWO)

(10)

1. Patterns of settlements based on density and distance.
2. The problems of housing and slums
3. Anthropogeographical boundaries
4. Characteristics of underdeveloped countries

Q.4 Discuss and critically evaluate the rural land use model proposed by Von Thunan.

[15]

Q.5 Discuss and critically evaluate the sector theory proposed by Homer Hoyet.

[15]

Q.6 Discuss the problems related with bountries between India and its neighbouring countries.

[15]

Q.7 Discuss the adverse impact of globalisation on culture.

[15]

वेळ : २ तास

मराठी भाषांतर

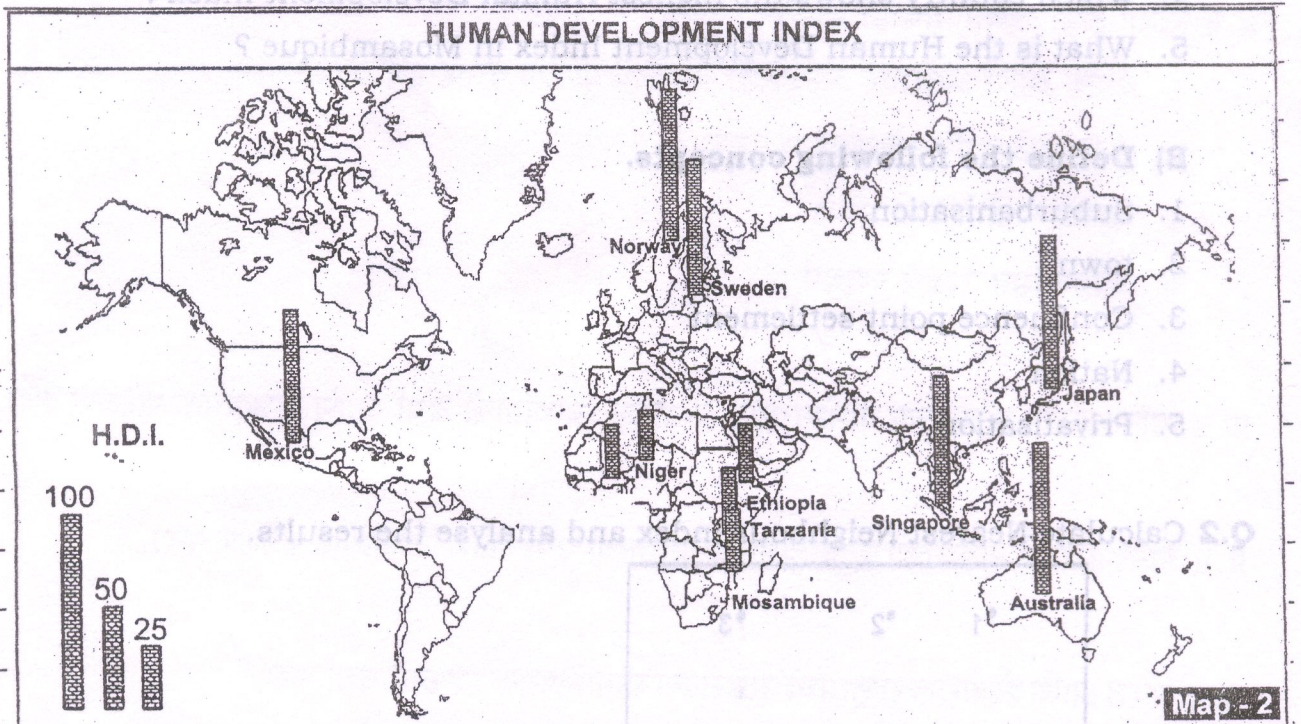
गुण : ६०

सूचना :

१. प्रश्न क्रमांक १, २ आणि ३ अनिवार्य आहेत.
२. प्र. ४ ते प्र. ७ पैकी कोणतेही दोन प्रश्न सोडवा.
३. आवश्यक तेथे आकृत्या काढाव्यात.

प्र.१ अ) खाली दिलेला जगाचा नकाशा वाचा आणि प्रश्नांची उत्तरे लिहा.

(५)



१. माहिती दर्शविण्यासाठी वापरल्या गेलेल्या नकाशाशास्त्रीय तंत्राचे नाव लिहा.
२. दिलेल्या नकाशामध्ये कोणता उद्देश दर्शविला आहे?
३. सर्वात कमी मानवी विकास निर्देशांक कोणत्या देशात दर्शविला आहे ?

४. सर्वात जास्त मानवी विकास निर्देशांक कोणत्या देशात दर्शविला आहे?

५. मोझाम्बिक मध्ये मानवी विकास निर्देशांक किती आहे?

ब) खालील संकल्पनांची संख्या लिहा.

(५)

१. उपनगरीकरण

२. नगर

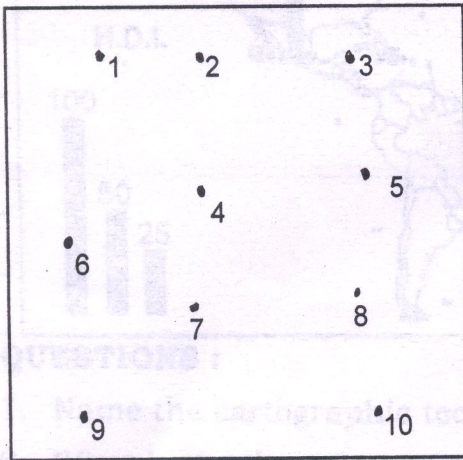
३. संगमाच्या स्थानी असलेली वसाहत

४. राष्ट्र

५. खाजगीकरण

प्र.२ निकटवर्तीयता तंत्राच्या सहाय्याने निर्देशांक काढा आणि अन्वयार्थ लिहा.

(१०)



प्र.३ टिपा लिहा. (कोणत्याही दोन)

(१०)

१. घनता आणि अंतरावर आधारित असलेली ग्रामीण वसाहतींचे आकृतीबंध

२. घरबांधणी आणि झोपडपट्टीचे प्रश्न

३. मानवी - भौगोलिक सीमा

४. अविकसित देशांचे गुणधर्म

प्र.४ व्हॉन थ्युनने मांडलेल्या ग्रामीण भूमी उपयोजन सिध्दांताची चर्चा आणि टिकात्मक परिक्षण करा.

(१५)

प्र.५ होमर हॉएट ने मांडलेल्या वर्तुळविभाग सिध्दांताची चर्चा आणि टिकात्मक परिक्षण करा.

(१५)

प्र.६ भारत आणि शेजारील राष्ट्रांमध्ये असलेल्या सीमाविषयक प्रश्नांची चर्चा करा.

(१५)

प्र.७ संस्कृतीवर होणाऱ्या जागतिकीकरणाच्या नकारात्मक परिणामांची चर्चा करा.

(१५)

* * * *